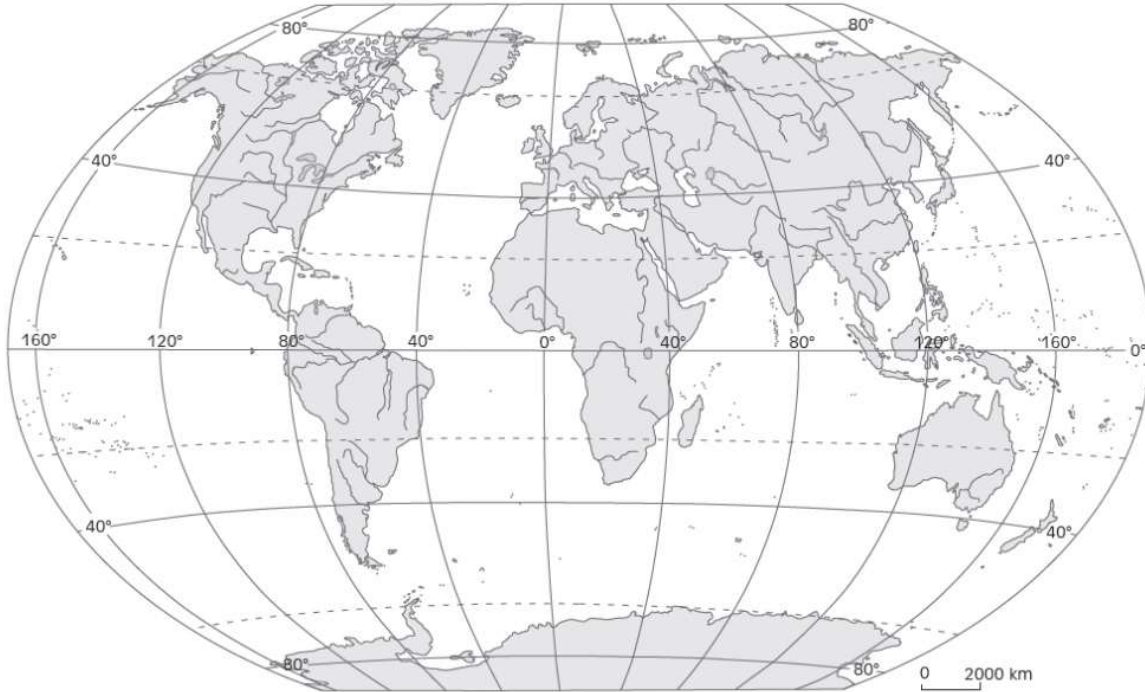


Lądy i oceany

Zadanie 1

Wykonaj zadania na podstawie map.

a) Wpisz na mapę nazwy kontynentów i oceanów.



b) Na podstawie powyższej mapy uzupełnij tekst używając nazw kierunków geograficznych.

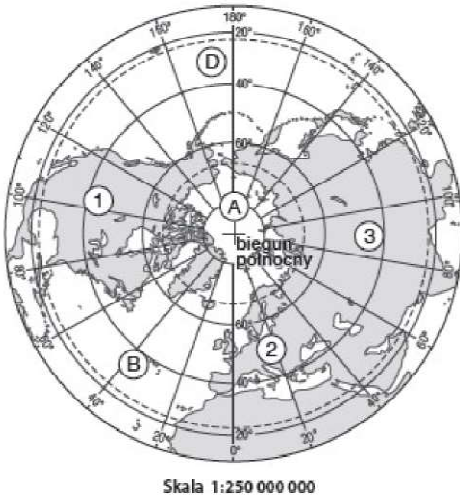
Europa graniczy z Azją od Ocean Spokojny oblewa lądy Ameryk od strony, a Ocean Atlantycki od Afryka leży na od Europy. Większa część Oceanu Indyjskiego leży na półkuli Australię oblewają Ocean Indyjski od i Ocean Spokojny od Ocean Arktyczny leży wokół bieguna Antarktydę oblewają wody Oceanu

Półkula nazywana jest lądową, a półkula oceaniczną.

Zadanie 2

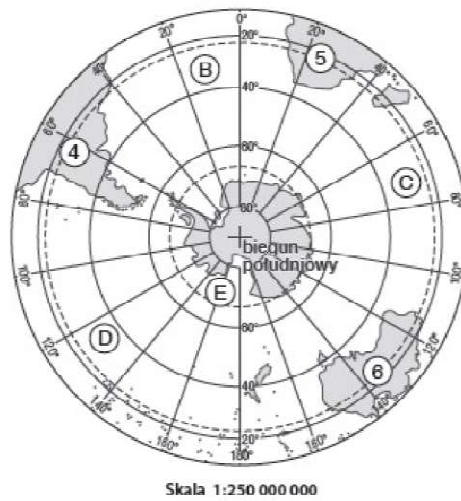
Wykonaj zadania na podstawie map.

a. Wybierz i wpisz właściwe podpisy pod mapami. *Antarktyda, Arktyka*



Mapa 1.

.....



Mapa 2.

.....

b. Rozpoznaj na mapach i wpisz w odpowiednich miejscach nazwy kontynentów oznaczonych cyframi od 1 do 6 oraz oceanów oznaczonych literami od A do E.

KONTYNENTY	OCEANY
1	A
2	B
3	C
4	D
5	E
6	

Źródła:

<https://cloud6n.edupage.org/>

<http://www.geosilesia.pl/metody-prezentacji-danych-w-kartografii/>